


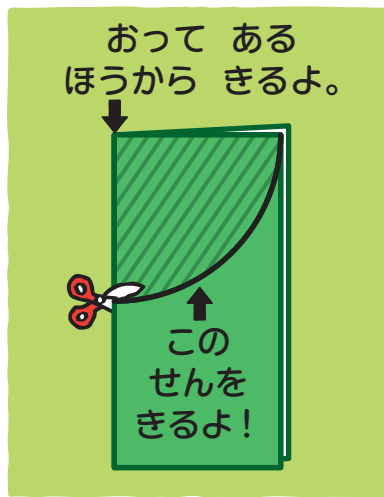
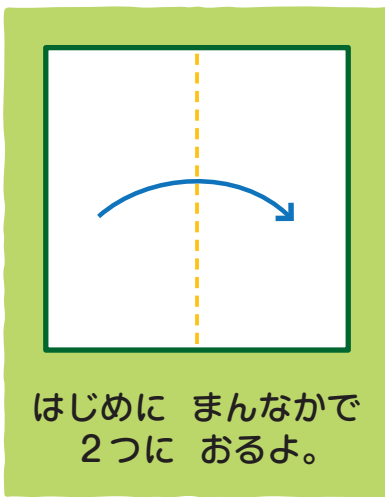


折り紙を二つ折りにして切ったときにできる形を考えます。

34 きると どんな かたち? ①

おりがみを 2つに おって せんの ところで きります。
の ぶぶんを ひろげると、どんな かたちになるかな。えらんで ^{まる}○で かこみましょう。



はさみを つかう ときは、けがを しないように きを つけましょう。