







31 しかくにならないのはどれかな？

2つの かたちを くみあわせて しかく  に **ならない** くみあわせは どれかな。2つ みつけて、まる  で かこみましょう。



むきを かえて
かんがえて みよう!



くみあわせると
しかく  に なるかな?



いろいろな
くみあわせが
あるんだね。

