

# 37 かえるになるまでを たどろう


ただしい じゅんになるように めいろを  
すすみましょう。

すたあと  
スタート


たまご




まえあしが  
でる。



おたまじゃくしに  
なる。



うしろあしが  
でる。



うしろあしが  
なくなる。



まえあしが  
でる。



しっぽが  
なくなる。



まえあしが  
なくなる。



しっぽが  
なくなる。



ごうる  
ゴール

かえるに なる。



あしは、  
まえと うしろ、  
どちらが さきに  
でるかな？

