


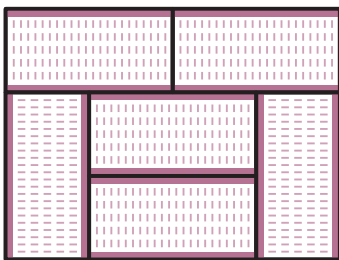


52 どちらが ひろいかな？ ③

どちらが ひろいかな。ひろい ほうの に ^{まる}○を
つけましょう。



ちよこれえと
チョコレートが
いっぱいだ！



たたみの
へやだね。

